



به نام خدا

فعالیت ریاضی مرور پایه ی اول دبستان

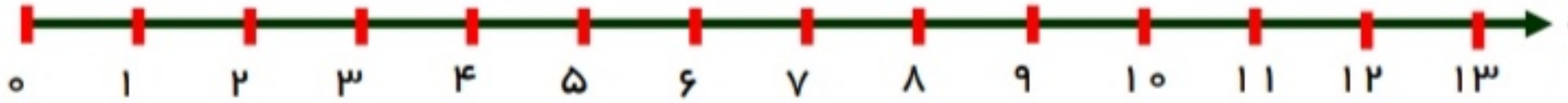
دبستان پسرانه غیر دولتی پویش نوین

نام و نام خانوادگی :

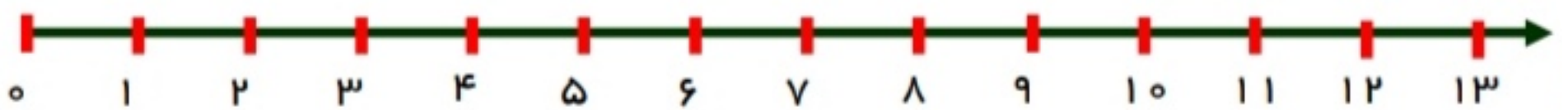
پایه دوم دبستان

1- جمع و تفریق های زیر را روی محور نشان بده.

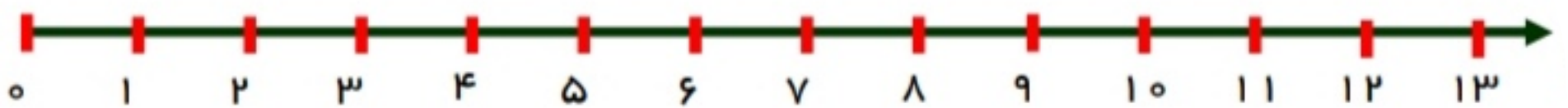
$$9 + 3 =$$



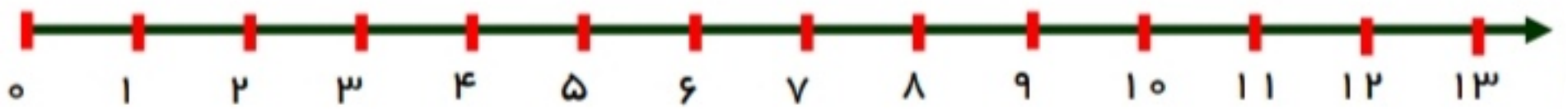
$$11 - 3 =$$



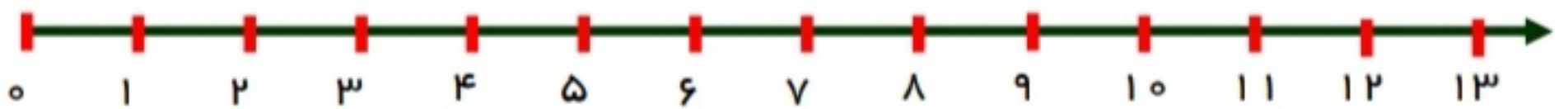
$$6 + 5 =$$



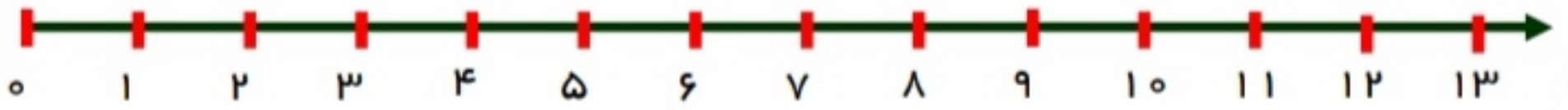
$$13 - 7 =$$



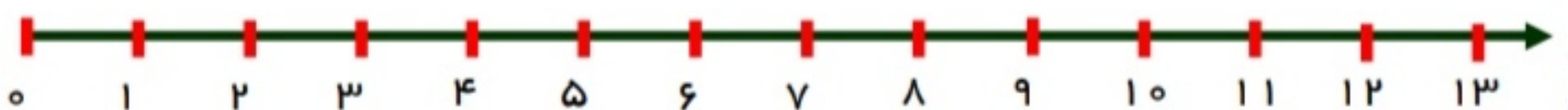
$$4 + 8 =$$



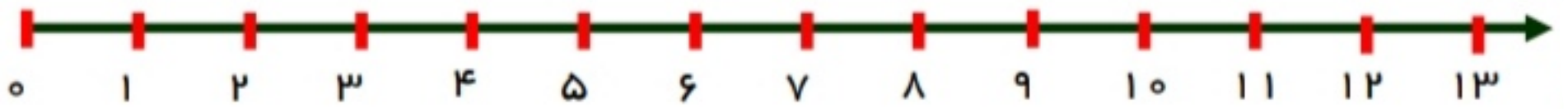
$$12 - 7 =$$



$$3 + 7 =$$



$$11 - 6 =$$



2- در هر قسمت با توجه به یکی ها و ده تایی ها ، جدول را کامل کن و عدد ساخته شده را بنویس .

ده تایی	یکی
.....

.....

ده تایی	یکی
.....

.....

ده تایی	یکی
.....

.....

ده تایی	یکی
.....

.....